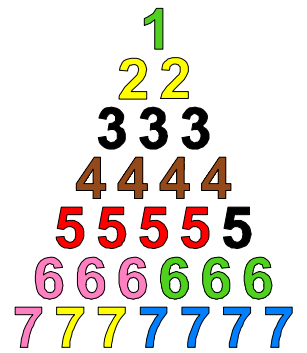


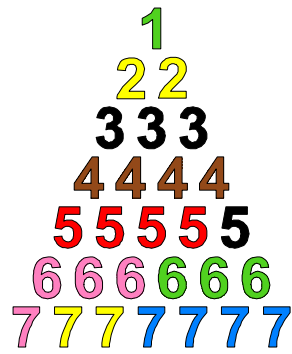
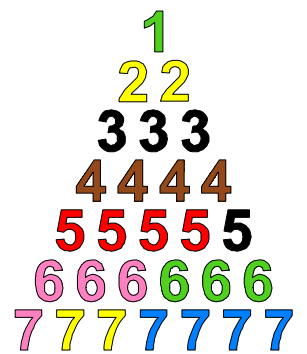

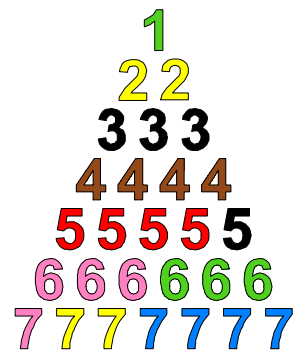



1	
2	
3	
4	
5	
6	
7	
8	
9	
10	
11	
12	
13	
14	
15	
16	
17	
18	
19	
20	
21	
22	
23	



1	
2	
3	
4	
5	
6	
7	
8	
9	
10	
11	
12	
13	
14	
15	
16	
17	
18	
19	
20	
21	
22	
23	



1	2	2	3	3	3	4
4	4	4	5	5	5	5
5	6	6	6	6	6	6
7	7	7	7	7	7	7

<p>1. Sur combien de réglettes la somme des chiffres est-elle 18 ou plus ?</p>	<p>2. Sur combien de réglettes la somme des chiffres est-elle 12 ou moins ?</p>	<p>3. Sur combien de réglettes voyez-vous le même chiffre en différentes couleurs (par exemple, un 7 bleu et un 7 jaune) ?</p>
<p>4. Sur combien de réglettes voyez-vous 3 couleurs différentes ?</p>	<p>5. Sur combien de réglettes ne voyez-vous que des chiffres pairs ou que des chiffres impairs ?</p>	<p>6. Sur combien de réglettes voyez-vous au moins deux cartes identiques (même chiffre et même couleur) ?</p>
<p>7. Sur combien de réglettes voyez-vous trois chiffres successifs ?</p>	<p>8. Combien de couleurs voyez-vous ?</p>	<p>9. Combien de couleurs voyez-vous au moins trois fois ?</p>
<p>10. Combien de chiffres ne voyez-vous pas ?</p>	<p>11. Combien des cartes suivantes voyez-vous en tout : <b>un</b> vert, <b>cinq</b> noir, <b>sept</b> rose ?</p>	<p>12. Voyez-vous plus de <b>trois</b> ou plus de <b>six</b> roses ?</p>

<p><b>13.</b> Voyez-vous plus de <b>six</b> verts ou plus de <b>sept</b> jaunes ?</p>	<p><b>14.</b> Voyez-vous plus de <b>deux</b> jaunes ou plus de <b>sept</b> jaunes ?</p>	<p><b>15.</b> Voyez-vous plus de <b>six</b> roses ou plus de <b>six</b> verts ?</p>
<p><b>16.</b> Voyez-vous plus de <b>sept</b> bleus ou plus de <b>sept</b> d'autres couleurs ?</p>	<p><b>17.</b> Voyez-vous plus de chiffres bruns ou plus de chiffres bleus ?</p>	<p><b>18.</b> Voyez-vous plus de chiffres rouges ou plus de chiffres roses ?</p>
<p><b>19.</b> Voyez-vous plus de chiffres verts ou plus de chiffres bleus ?</p>	<p><b>20.</b> Voyez-vous plus de chiffres jaunes ou plus de chiffres roses ?</p>	<p><b>21.</b> Voyez-vous plus de chiffres noirs ou plus de chiffres bruns ?</p>
<p><b>22.</b> Voyez-vous plus de chiffres noirs ou plus de chiffres rouges ?</p>	<p><b>23.</b> Voyez-vous plus de chiffres verts ou plus de chiffres jaunes ?</p>	

